


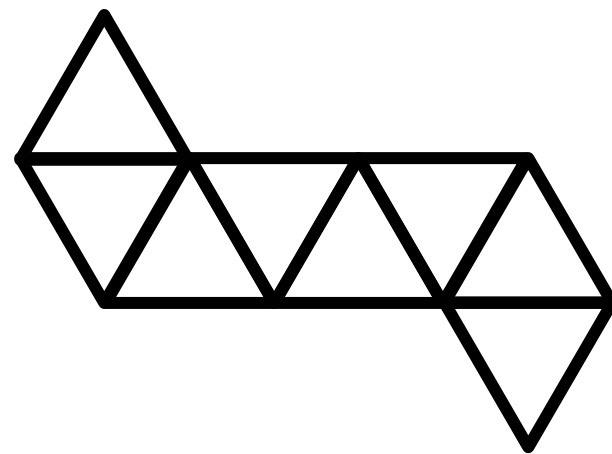
制限時間 **3** 分

まいにち算数-065

立体 A の展開図



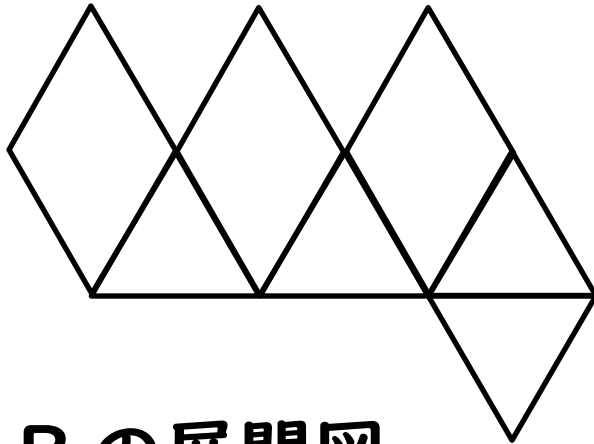
立体 B の展開図



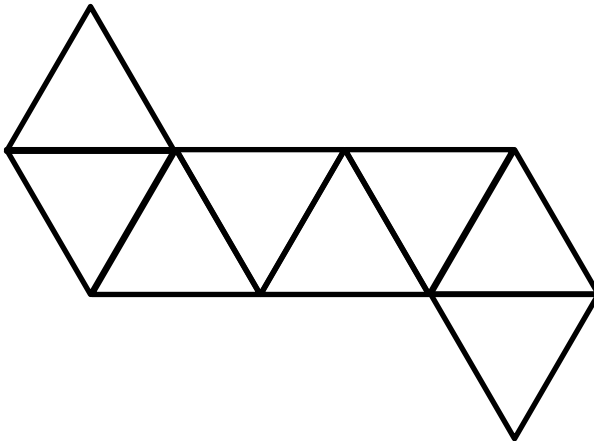
図の展開図を組み立ててできた立体は
どの辺も 10cm, **立体 A の体積** は **立体 B の**
体積 の \square 倍

(2012年灘中)

立体 A の展開図



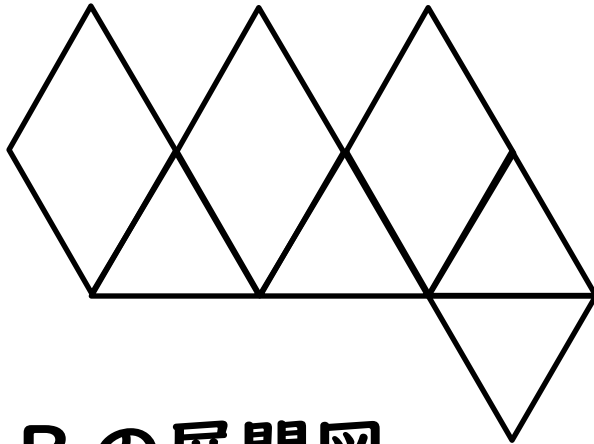
立体 B の展開図



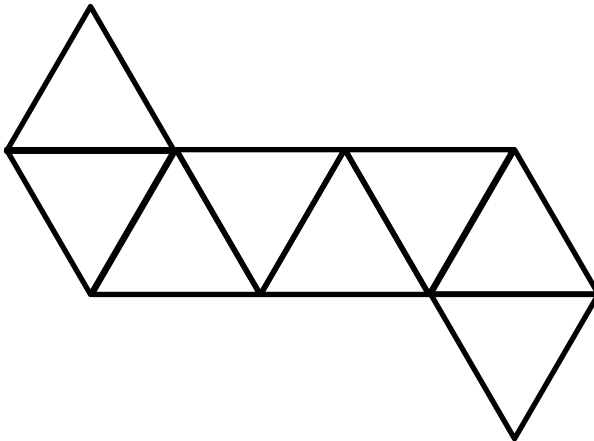
図の展開図を組み立ててできた立体は、
どの辺の長さも 10 cm

立体 A の体積は立体 B の体積の 倍

立体 A の展開図



立体 B の展開図



図の展開図を組み立ててできた立体は、
どの辺の長さも 10 cm

立体 A の体積は立体 B の体積の 倍

ポイント **正四面体を基準にする**

